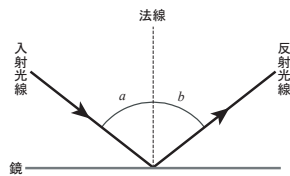
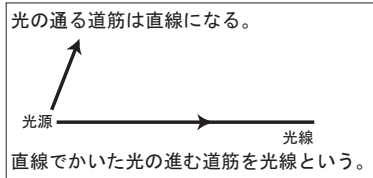


Check ①

氏名			
	年	月	日
得点			

□① 光が鏡などの平らな面にあたりはね返って進む現象を()という。

□② 図の a を(), b を()という。



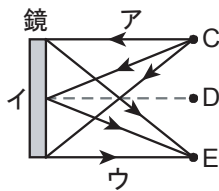
□③ 入射光線・法線・反射光線は()にある。

□④ 入射光線と反射光線とはたがいに法線の()にある。

□⑤ ()と()は等しい。

□⑥ 鏡に物体がうつっているとき、そのうつっているものを鏡による()という。

□⑦ 物体と鏡による像は、鏡の面に対して()な位置にある。



□⑧ 垂直にあわせた2枚のあわせ鏡では、像は()つ見える。

